

JPN PERAK

2020

Modul#learning@home

SEJARAH-K1

JABATAN PENDIDIKAN NEGERI PERAK

We Deliver

TINGKATAN

4



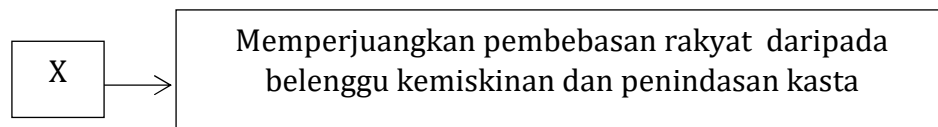
BAB 10 : PILIHAN RAYA PEMASYUHARAN KEMERDEKAAN

10.1 : Pengertian kemerdekaan

1. Kamus Dewan mentakrifkan kemerdekaan sebagai ... ms234

- A naungan kebebasan
- B bebas daripada penjajah
- C kuasa menentukan hala tuju
- D bersatu menentang kuasa luar

2. Rajah berikut merujuk kepada maksud kemerdekaan daripada tokoh negara luar.



Siapakah X? ms234

- A Nelson Mandela
- B Mahatma Ghandhi
- C Rashid Rida
- D Tun Fuad Stephens

3. Maklumat berikut berkaitan dengan takrif kemerdekaan. Ms235

Kebebasan bukan hanya satu pertempuran untuk melawan satu kumpulan atau warna kulit tetapi satu pertempuran terhadap sebuah sistem yang menindas.

Siapakah tokot tersebut?

- A. Dr. Mahathir Mohamad
- B. Mahatma Ghandhi
- C. Nelson Mandela
- D. Soekarno

4. Maklumat berikut berkaitan erti kemerdekaan.

Perjuangan bagi menghadapi penjajah hendaklah disertai semangat kebangsaan dan rakyat perlu bersatu mempertahankan maruah diri, bangsa dan agama.

Siapakah tokoh tersebut? Ms234

- A. Sayyid Jamal al-Din al-Afghani
- B. Rashid Rida
- C. Soekarno
- D. Tun Temenggung Juggah

5.

- Tun Dr. Mahathir Mohamad

Tokoh diatas merupakan bekas Perdana Menteri Malaysia.

Apakah maksud kemerdekaan pada pandangan beliau? Ms 235

- A. Kebebasan untuk berfikir dan bertindak
- B. Memberi jaminan keselamatan kepada penduduk
- C. Bebas dari perhambaan dan kemiskinan
- D. Menghayati semangat merdeka dengan berkorban kepada negara

10.2 : Persediaan menyambut kemerdekaan

6. Senarai berikut berkaitan dengan persediaan menyambut pemasyhuran kemerdekaan negara.

- Jawatankuasa persediaan fizikal dan sambutan

Apakah peranan utama jawatankluasa jawatankuasa tersebut? Ms 236

- A. Menonjolkan identiti negara
 - B. Melaksanakan protokol
 - C. Mempromosikan majlis sambutan
 - D. Menghias bandar dan jalan raya
7. Gambar berikut berkaitan prasarana yang dibina pada tahun 1957?



Apakah tujuan pembinaan prasarana tersebut?


- A. Menonjolkan identiti negara
- B. Meraikan kemerdekaan negara
- C. Mewujudkan kemudahan bersukan
- D. Menganjurkan pertandingan bola sepak

8. Antara yang berikut, yang manakah lambang negara Malaysia?

- I wau
- II keris
- III bunga raya
- IV lagu kebangsaan

- A. I dan II
- B. II dan IV
- C. II dan III
- D. III dan IV

9. Gambar berikut adalah bendera Persekutuan Tanah Melayu yang menjadi kebanggaan bangsa dan rakyat Malaysia.



Rakyat Malaysia mesti berbangga dengan bendera tersebut kerana ia adalah lambang. Ms236

- A. Keagungan
- B. Kedaulatan
- C. Kegigihan
- D. Kemajuan

10.

- Menganjurkan kursus khas berkaitan protocol selama tiga hari
- Pegawai dan kakitangan kerajaan diberikan gaji awal
- Menteri dan pegawai tinggi kerajaan diberikan pakaian khas 'baju muskat'

Maklumat berikut merupakan tindakan yang diambil pada tahun 1957

Mengapakah langkah tersebut diambil? Ms 237

- A. Memulihkan ekonomi negara
- B. Mengamalkan kebudayaan
- C. Memeriahkan sambutan kemerdekaan
- D. Mengeratkan perpaduan kaum

10.3 : Detik Pemasyhuran Kemerdekaan Negara

11. Peristiwa berikut berlaku pada pukul 12.00 tengah malam tanggal 30 Ogos 1957.

- Bendera Union Jack diturunkan
- Bendera Persekutuan Tanah Melayu dinaikkan

Apakah kepentingan peristiwa tersebut?

- A. Mempertahankan identiti negara
- B. Upacara pemasyhuran kemerdekaan negara
- C. Negara bebas daripada penjajahan
- D. Menanamkan semangat patriotisme

12. Maklumat berikut merujuk peristiwa yang berlaku pada 30 Ogos 1957.

Jam 12 tengah malam, bendera Union Jack diturunkan dan Kemudian bendera Persekutuan Tanah Melayu dinaikkan

Apakah iktibar yang dapat diambil daripada peristiwa tersebut ? ms239

- I. Menghargai warisan budaya
- II. Bersyukur sebagai warganegara
- III. Berbangga dengan usaha pemimpin
- IV. Mempertahankan kaum sendiri

- A. I dan II
- B. II dan IV
- C. II dan III
- D. III dan IV

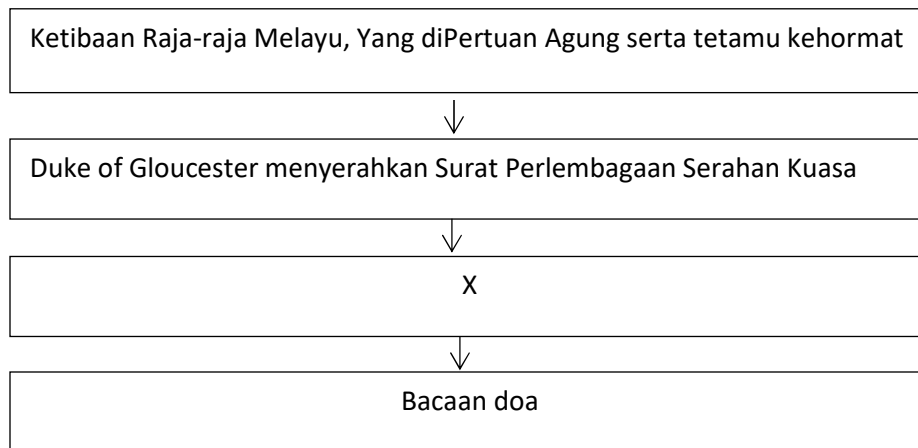
13. Maklumat berikut berkaitan peristiwa penting di Tanah Melayu. Ms240

1957
Pemasyhuran Kemerdekaan Persekutuan Tanah Melayu

Apakah kepentingan pemasyhuran kemerdekaan kepada negara kita?

- A. Kesejahteraan
- B. Kemakmuran
- C. Kegemilangan
- D. Kedaulatan

14. Rajah berikut merupakan peristiwa bersejarah di Stadium Merdeka pada tahun 1957.

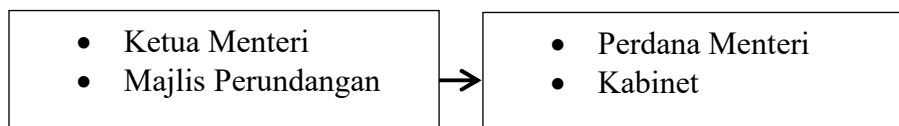


Apakah X? ms 240

- A. Pemasyhuran kemerdekaan disiytiharkan
- B. Laungan Medrdeka sebanyak tujuh kali
- C. Menaikkan bendera Persekutuan Tanah Melayu
- D. Menyanyikan lahu kebangsaan

10.4 : Kesan Kemerdekaan Terhadap Negara Kita

15. Rajah berikut menunjukkan perubahan sistem pentadbiran negara kita.



Mengapakah berlaku perubahan tersebut? Ms242

- A. Pengenalan Sistem Ahli
- B. Penubuhan Suruhanjaya Reid
- C. Pembentukan jawatankuasa parlimen
- D. Pembentukan Persekutuan Tanah Melayu

16. Siapakah yang menjadi ketua Kerajaan Persekutuan Tanah Melayu? Ms242
- A. Perdana Menteri
 - B. Yang Dipertuan Agong
 - C. Pesuruhjaya Tinggi British
 - D. Setiausaha Kerajaan Negeri
17. Apakah kesan kemerdekaan negara pada tahun 1957 dalam aspek politik? Ms242
- I Gabenor dilantik di setiap negeri
 - II Konsep Raja Berperlembagaan diwujudkan
 - III mengamalkan demokrasi berparlimen
 - IV dasar pengagihan kuasa dilaksanakan
- A. I dan II
 - B. I dan IV
 - C. II dan III
 - D. III dan IV
18. Penggubalan undang-undang dapat memakmurkan negara.
Rajah di bawah merupakan badan yang berkuasa menggubal undang-undang.
Ms242

Negeri	Dewan Undangan Negeri
Persekutuan	X

Apakah X?

- A. Jemaah menteri
- B. Kabinet
- C. Parlimen
- D. Dewan negara

19.

- Britain
- Australia
- New Zealand

Apakah tujuan Malaysia menandatangani perjanjian pertahanan dengan negara di atas selepas merdeka?

- A. Membeli peralatan perang
- B. Menjamin keselamatan negara
- C. Memulihkan hubungan diplomatic
- D. Meningkatkan kemasukan pelabur asing

20. Apakah tindakan untuk mengukuhkan peranan negara kita di peringkat antarabangsa ? ms243

- I menganggotai Komanwel
- II membangunkan ekonomi
- III mengukuhkan perpaduan
- IV menyertai blok sterling

- A. I dan II
- B. I dan IV
- C. II dan III
- D. III dan IV

21. Sebagai anggota Pertubuhan Bangsa-Bangsa Bersatu (PBB), Malaysia telah memberi sumbangan ke arah memelihara keamanan dunia.

Apakah sumbangan tersebut? Ms243

- A. menyertai misi pegaman di Congo
- B. membebaskan negara yang dijajah
- C. menyarankan penggunaan dinar emas
- D. mewujudkan pakatan tentera

22. Rancangan Malaya Pertama (1956-1960) adalah bertujuan untuk meningkatkan pertumbuhan ekonomi negara.

Bagaimanakah rancangan ini dilaksanakan? Ms44

I mempelbagaikan keluaran pertanian

II meningkatkan pengeluaran eksport

III membawa kepakaran dari luar

IV menambahkann pe;luang pekerjaan

A. I dan II

B. I dan IV

C. II dan III

D. III dan IV

23.

<p>FELDA</p> <ul style="list-style-type: none">• Ditubuhkan pada 1956• Menyediakan kemudahan asas• Mewujudkan petempatan baru

Apakah tujuan penubuhan badan berkanun di atas? Ms244

A. Memasarkan hasil pertanian

B. Menggalakkan kegiatan industri desa

C. Meningkatkan pengeluaran tanaman makanan

D. Meningkatkan taraf hidup masyarakat luar bandar

24. Mengapakah Bank Negara diwujudkan pada awal kemerdekaan negara kita? Ms244

A. Menggalakkan pertumbuhan ekonomi

B. Membantu penduduk luar bandar

C. Membuka peluang pekerjaan

D. Menarik pelabur luar

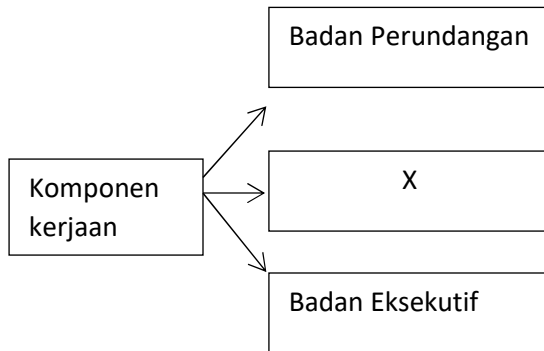
25. Apakah tujuan Rancangan Buku Merah? 245
- A. Membuka tanah besar-besaran
 - B. Menstabilkan ekonomi negara
 - C. Menyediakan peluang pekerjaan
 - D. Memantau projek pembangunan
26. Ketika mencapai kemerdekaan, negara mempunyai sebanyak 65 buah hospital dibawah seliaan Kementerian Kesihatan.
Apakah peranan Kemeterian Kesihatan? Ms 245
- A. Pemulihan isu sosial demi kesejahteraan rakyat
 - B. menyediakan bekalan air bersih
 - C. Meningkatkan taraf hidup penduduk luar bandar
 - D. Meningkatkan peluang perkerjaan penduduk bandar.
27. Mengapakah kerajaan menubuhkan institusi berikut? Ms245

Dewan Bahasa dan pustaka

- A. Meningkatkan kadar celik huruf
- B. Menggalakkan kemasukan pelajar asing
- C. Meningkatkan kemahiran pelbagai bahasa
- D. Memperkasa kedudukan bahasa kebangsaan

10.5 Prinsip Kedaulatan Persekutuan Tanah Melayu

28. Rajah berikut merupakan komponen utama kerajaan. Ms246



Apakah X?

- A. Badan Kehakiman
- B. Badan Kerajaan
- C. Dewan negara
- D. Dewan rakyat

29. Gambar berikut menunjukkan Jata Negara kita Malaysia. Ms247



Mengapakah jata tersebut penting kepada negara dan bangsa Malaysia?

- I Memperkukuh perpaduan rakyat
- II Melahirkan rakyat bersemangat waja
- III Mempertahan semangat kenegerian
- IV Melambangkan kemajuan ekonomi

- A. I dan II
- B. II dan IV
- C. II dan III
- D. III dan IV

30. Pernyataan berikut berkaitan dengan prinsip Ruku Negara. ms ms47

Kedaulatan undang-undang

Apakah maksud prinsip tersebut?

- A. Memastikan negara terus berdaulat
- B. Undang-undang negara tidak boleh dipinda
- C. Pematuhan undang-undang membawa kesejahteraan
- D. Kerajaan dan rakyat tertakluk kepada undang-undang negara

PERATURAN PEMARKAHAN

BAB 10

:

PEMASYHURAN KEMERDEKAAN

SOALAN	JAWAPAN	MUKA SURAT
1	B	234
2	B	234
3	C	234
4	A	234
5	D	235
6	A	236
7	B	236
8	D	236
9	B	236
10	C	237
11	C	238
12	C	239
13	D	240
14	A	240
15	D	242
16	B	242
17	C	242
18	C	242
19	B	243
20	B	243
21	A	243
22	B	244
23	D	244
24	A	245
25	D	245
26	A	245
27	D	245
28	A	246
29	A	247
30	C	247